

Предмет	География, ЕГЭ 2023
Задание №	20
Тема	Городское и сельское население мира
Уровень сложности	Базовый

Задание 20 имеет базовый уровень сложности. Данное задание направлено на проверку умения определять, находить и использовать информацию из статистических источников для классификации стран по заданным основаниям. Для его выполнения, помимо карты, необходимо воспользоваться также справочными материалами, содержащимися в КИМ.

В задании 20 требуется сопоставить перечисленные в нём страны с условными обозначениями карты для отображения доли городского населения в этих странах. Для его выполнения нужно воспользоваться таблицей «Основные демографические показатели...» и алгоритмом:

Алгоритм выполнения задания:






1. Находим перечисленные в задании страны в таблице «Основные демографические показатели некоторых стран...».

2. С помощью колонки «Доля городского населения» определяем диапазон (0–20%, 21–40% и т. п.), в который попадает доля городского населения в каждой из трёх стран.

3. Устанавливаем соответствие между страной и цифрой, которой обозначен соответствующий ей диапазон.

4. Записываем в ответ получившуюся последовательность цифр.

Пример: Петру необходимо построить картограмму «Африка. Доля городского населения», используя такую же интервальную шкалу, как на приведённой выше карте Северной Америки. Установите соответствие между страной и условным обозначением, которое необходимо использовать для отображения доли городского населения каждой из перечисленных стран на карте: к каждой позиции, данной в первом столбце, подберите соответствующую позицию из второго столбца.

СТРАНА		УСЛОВНОЕ ОБОЗНАЧЕНИЕ	
А)	Мозамбик	1)	 0–20
Б)	Сомали	2)	 21–40
В)	Алжир	3)	 41–60
		4)	 61–80
		5)	 81–100

Запишите в таблицу выбранные цифры под соответствующими буквами.

А	Б	В

Страна	Численность населения, млн чел	Плотность населения, чел. на км ²	Ожидаемая продолжительность жизни, лет	Доля городского населения, %
Мозамбик	22,1	28	58	37,07
Сомали	10,1	16	57	46,14
Алжир	42,7	18	77	73,00

Решение:

1. Находим указанные страны в таблице (на экзамене в ней будет много стран).

2. Определяем, что доля городского населения в Мозамбике составляет 37% (диапазон 21–40), в Сомали – 46% (диапазон 41–60), в Алжире – 73% (диапазон 61–80).

3. Следовательно, Мозамбику соответствует диапазон 2, Сомали – 3, Алжиру – 4.

Записываем ответ: 234.